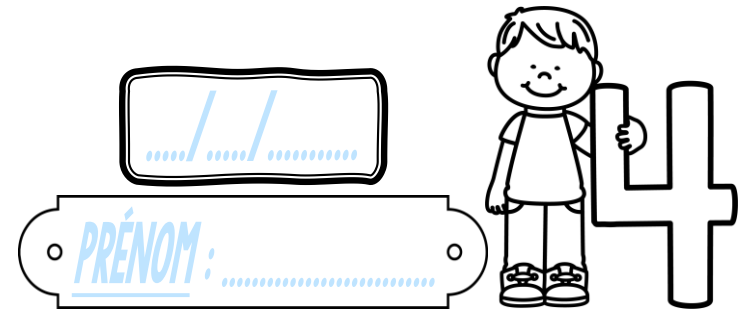


Meuree

CE2



① Convertis ces sommes en centimes d'euros. Observe l'exemple !

a) $2 \text{ € } 40 \text{ c} = 200 \text{ c} + 40 \text{ c} = \underline{240 \text{ c}}$

d) $3 \text{ € } 50 \text{ c} = \underline{\quad} \text{ c} + \underline{\quad} \text{ c} = \underline{\quad} \text{ c}$

b) $4 \text{ € } 70 \text{ c} = \underline{\quad} \text{ c} + \underline{\quad} \text{ c} = \underline{\quad} \text{ c}$

e) $9 \text{ € } 20 \text{ c} = \underline{\quad} \text{ c} + \underline{\quad} \text{ c} = \underline{\quad} \text{ c}$

c) $6 \text{ € } 80 \text{ c} = \underline{\quad} \text{ c} + \underline{\quad} \text{ c} = \underline{\quad} \text{ c}$

f) $5 \text{ € } 10 \text{ c} = \underline{\quad} \text{ c} + \underline{\quad} \text{ c} = \underline{\quad} \text{ c}$

② Résous ces deux problèmes.

Louison a cette somme dans son porte-monnaie.
Il veut acheter cette paire de rollers.



Colorie ce qu'il va dépenser.



Après cet achat, il va lui rester € et c.

Amairis veut acheter ce gâteau.

Dessine les pièces et les billets qui lui manquent.




<https://laclassibleue.fr/>

Meuree/La monnaie

Meuree

CE2



① Convertis ces sommes en centimes d'euros. Observe l'exemple !

a) 2 € 40 c = 200 c + 40 c = <u>240 c</u>	d) 3 € 50 c = 300 c + 50 c = <u>350 c</u>
b) 4 € 70 c = 400 c + 70 c = <u>470 c</u>	e) 9 € 20 c = 900 c + 20 c = <u>920 c</u>
c) 6 € 80 c = 600 c + 80 c = <u>680 c</u>	f) 5 € 10 c = 500 c + 10 c = <u>510 c</u>

② Résous ces deux problèmes.

Louison a cette somme dans son porte-monnaie.
Il veut acheter cette paire de rollers.

Colorie ce qu'il va dépenser.



Après cet achat, il va lui rester 3 € et 42 c.

Amairis veut acheter ce gâteau.
Dessine les pièces et les billets qui lui manquent.

