



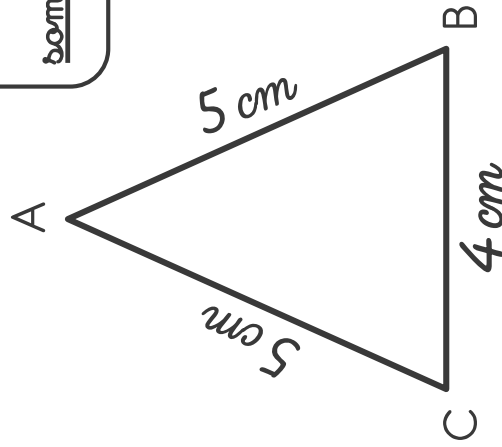
# Calculer un périmètre



## MÉMO

Calculer

un périmètre, c'est calculer la somme de la mesure des côtés d'une figure.



Le périmètre

de ce triangle est égal à 14 cm.

En effet :  $5 \text{ cm} + 5 \text{ cm} + 4 \text{ cm} = 14 \text{ cm}$

Le périmètre

de ce polygone est égal à 8 m.

En effet :

$$3 \text{ m} + 3 \text{ m} + 1 \text{ m} = 7 \text{ m}$$

$$80 \text{ cm} + 20 \text{ cm} = 100 \text{ cm} = 1 \text{ m}$$

$$7 \text{ m} + 1 \text{ m} = 8 \text{ m}$$

