

Prénom : \_\_\_\_\_



Semaine du 15 juin au 19 juin :

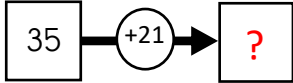
Recherche ce qu'on avait avant et après



Si vous ne pouvez pas imprimer, vous pouvez copier les réponses sur un cahier ou une feuille.

### 1 Les billes

Nina avait 35 billes. A la récréation, elle en a gagné 21. **Combien en a-t-elle maintenant ?**

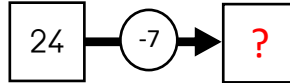


Maintenant, elle a .... billes

### 2 Les cerceaux

**Combien reste-t-il de cerceaux dans l'eau ?**

A la piscine, Lucas jette 24 cerceaux dans l'eau et Lou en récupère 7.

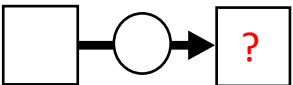


Il reste .... cerceaux dans l'eau.

### 3 Le bus

**Combien reste-il d'enfants dans le car ?**

Dans le car scolaire, il y avait 53 élèves. Une classe de 26 élèves descend à l'arrêt du gymnase.

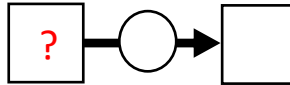


Il reste ... élèves.

### 4 La taille

A la fin de l'année, Ema mesure 137 cm. Elle a grandi de 7 cm pendant l'année.

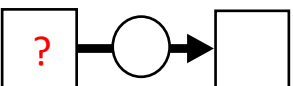
**Combien mesurait-elle au début de l'année ?**



Au début de l'année, elle mesurait ..... cm

### 5 Les tacos

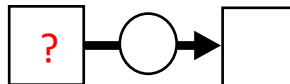
A la fin de la journée, il reste 8 tacos à Jean. Il en a vendu 29. **Combien en avait-il au début de la journée ?**



Au début de la journée, il avait ..... tacos.

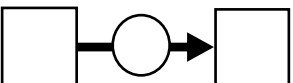
### 6 Le jeu de l'oie

**Sur quelle case Maria était-elle au début de son tour ?** Elle joue au jeu de l'oie. Elle lance les dés et obtient 12. Elle se retrouve sur la case 31.



### 7 L'argent de poche

Ethan a dépensé 25 euros. Il lui reste 12 euros. **Combien d'argent avait-il au départ ?**



### 8 Les cordes à sauter

Le directeur apporte 18 cordes à sauter dans la cour. Il y en a maintenant 35.

**Combien y en avait-il au départ ?**

