


	<b>PROBLÈMES CE2 (2)</b>	<b>13</b>
<p>Pour couvrir des rideaux pour sa maison, madame Duval a acheté 3 rouleaux de tissu. Chaque rouleau comporte 2 mètres et cinquante centimètres de tissu. <b>Quelle longueur de tissu a-t-elle au total ?</b></p>		

	<b>PROBLÈMES CE2 (2)</b>	<b>15</b>
<p>Le marchand de fruits et légumes a mis en rayon 23 kg de pommes reinettes, 37 kg de pommes golden et 14 kg de pommes canada. À midi, 36 kg de pommes ont été vendus. <b>Quelle masse de pommes lui reste-t-il ?</b></p>		

	<b>PROBLÈMES CE2 (2)</b>	<b>14</b>
<p>La famille Dumas va en vacances en Russie. Ils vont faire la route en trois jours. Chaque jour, les parents vont conduire pendant 8 heures et trente minutes. <b>Combien d'heures va durer le trajet au total?</b></p>		

	<b>PROBLÈMES CE2 (2)</b>	<b>16</b>
<p>Dans le poulailler, Mme Martin a ramassé 49 œufs. <b>Combien de boîtes de 6 œufs peut-elle complètement remplir ?</b></p>		